

MN3AEF

~~S4BA~~
S4BA
Geography - III

Time : 2 Hrs.

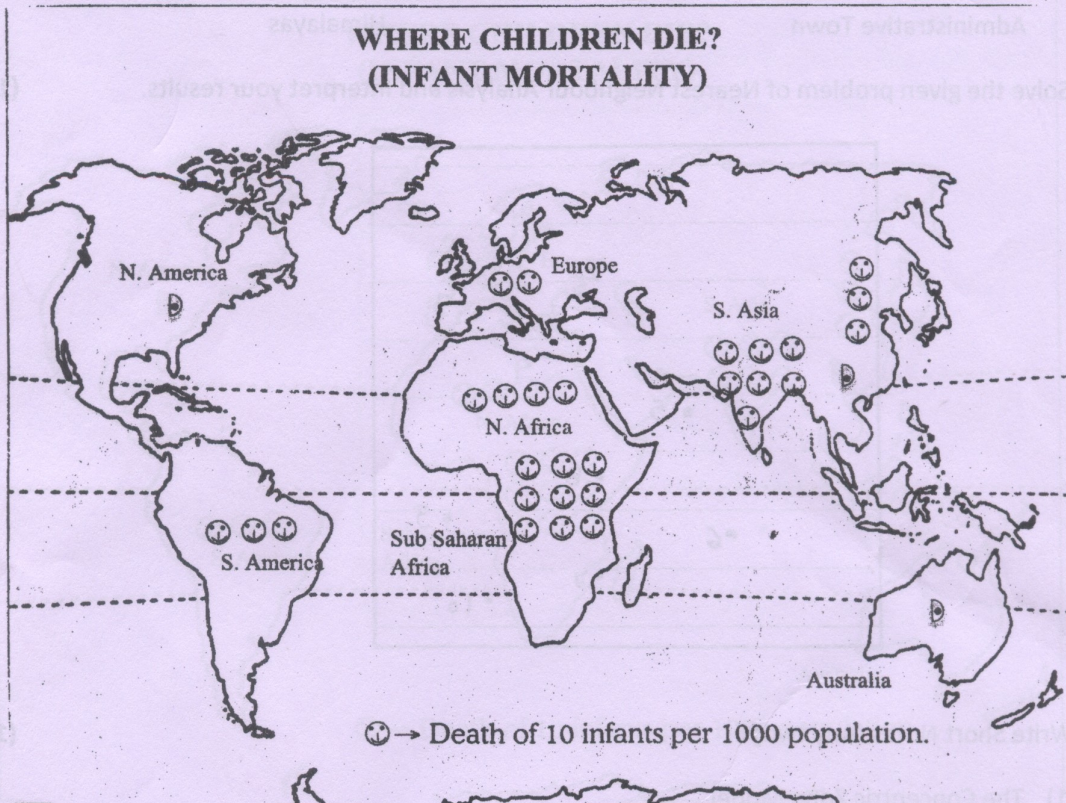
Marks : 60

Instruction: 1) Question 1, 2 and 3 are compulsory.

2) From remaining questions attempt any two.

Q1 A) Read the following World map and answer the given questions.

(05)



- 1) What is the theme of the given map?
- 2) Name the cartographic technique used to represent the given theme.
- 3) Name the continent with highest death rate of infants.
- 4) Name the continent with lowest death rate of infants.
- 5) Give reasons for higher death rate of infants in South Asia.

MN3AEF

Q1 B) Match the following.

(05)

A

B

Physiographic Boundary

Central Business District

Rural Landuse Model

Rudolf Kjellen

Geo-politics

Von Thunan

CBD

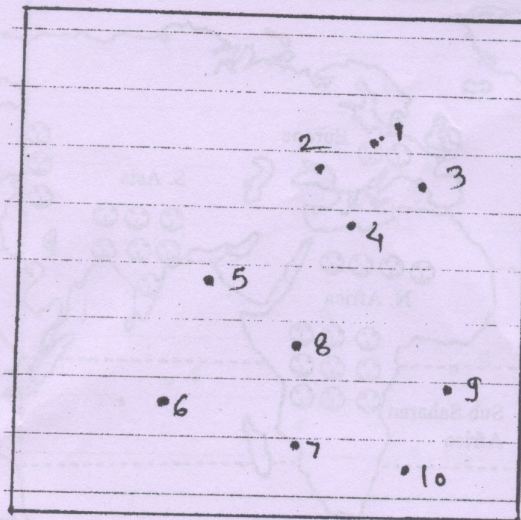
Delhi

Administrative Town

Himalayas

Q2 Solve the given problem of Nearest Neighbour Analysis and Interpret your results.

(10)



Q3 Write Short Notes (Any two)

(10)

- 1) The Concentric Zone Model
- 2) Isolated settlements
- 3) Physiographic boundaries
- 4) The circle of poverty

Q4 Give critical evaluation of the Rural Landuse Model in detail.

(15)

Q5 Discuss the problems of urbanization with special reference to Indian cities

(15)

Q6 Discuss the issues related to border disputes between India and China

(15)

Q7 Define culture. Discuss the impact of globalisation on Indian culture.

(15)

MN3AEF

मराठी भाषांतर

वेळ :- २ तास

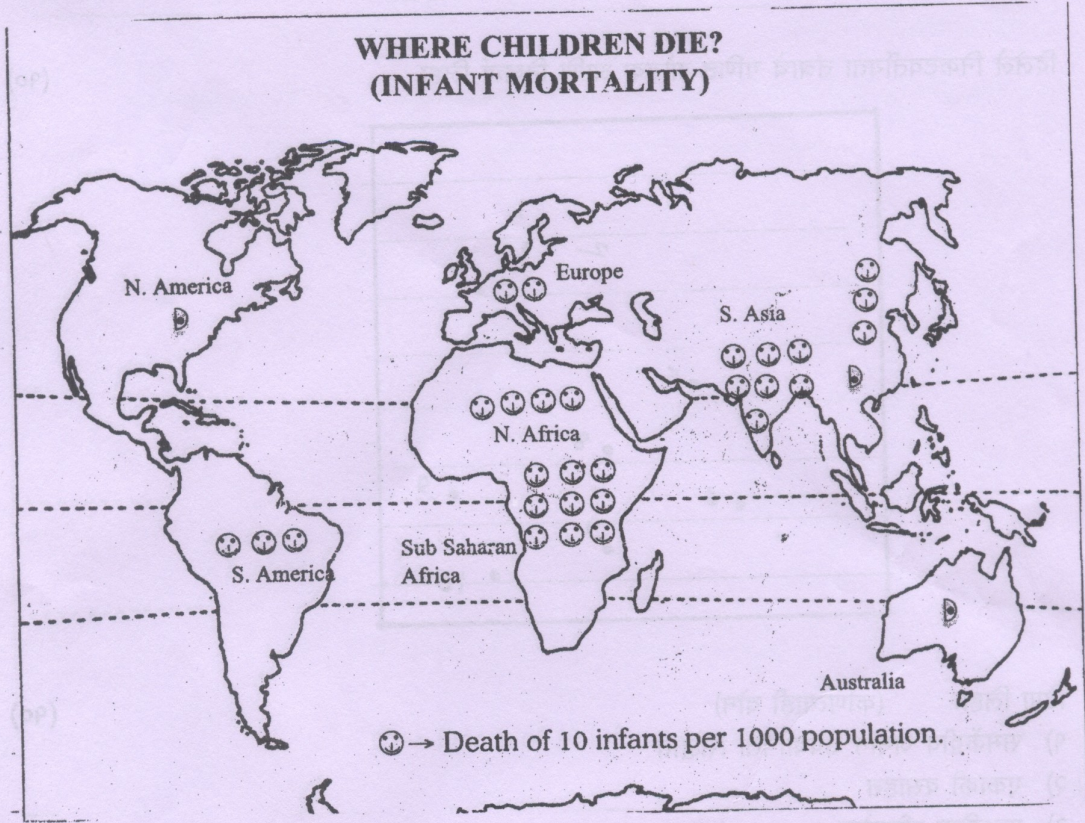
गुण :- ६०

सूचना :- १) प्रश्न १,२ आणि ३ अनिवार्य आहेत.

२) उर्वरित प्रश्नांपैकी प्र. ४ ते प्र. ७ मधून कोणतेही दोन प्रश्न सोडवावेत.

प्र. १ अ) दिलेला जगाचा नकाशा वाचा आणि प्रश्नांची उत्तरे लिहा.

(०५)



- १) दिलेल्या नकाशाचा उद्देश काय आहे?
- २) आकडेवारी दर्शविण्यासाठी वापरल्या गेलेल्या नकाशाशास्त्रीय तंत्राचे नाव लिहा.
- ३) बालकांमधील मृत्यूदर सर्वात जास्त असणा-या खंडाचे नाव लिहा.
- ४) बालकांमधील मृत्यूदर सर्वात कमी असणा-या खंडाचे नाव लिहा.
- ५) दक्षिण आशियामधे बालकांमधील मृत्यूदर जास्त असण्याची कारणे लिहा.

प्र.१ ब) जोडया लावा.

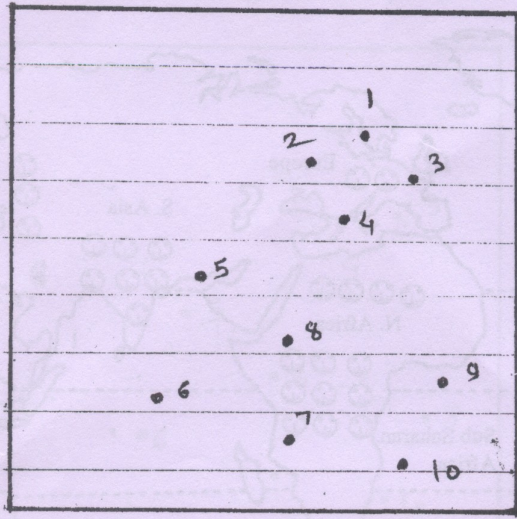
(०५)

अ
प्राकृतिक सीमा रेषा
ग्रामीण जमिन उपयोगिता सिद्धांत
जिओपॉलिटिक्स
सी.बी.डी
प्रशासकीय शहर

ब
सेंट्रल बिझनेस डिस्ट्रिक्ट
रुडाल्फ जेलन
वॉन थ्युनन
दिल्ली
हिमालय

प्र.२ दिलेले निकटवर्तीयता तंत्राचे गणित सोडवा आणि निष्कर्ष लिहा.

(१०)



प्र.३ टिपा लिहा. (कोणत्याही दोन)

(१०)

- १) समकेंद्रीय जमीन उपयोगिता सिद्धांत
- २) एकाकी वसाहत
- ३) प्राकृतिक सीमारेषा
- ४) दारिद्र्य चक्र

प्र.४ ग्रामीण जमीन उपयोगिता सिद्धांताचे टिकात्मक परिक्षण करा.

(१५)

प्र.५ शहरीकरणाच्या समस्यांची भारतीय शहरांच्या विशेष संदर्भात चर्चा करा.

(१५)

प्र.६ भारत आणि चीन या दोन देशांमधील सीमारेषेच्या संदर्भातील समस्यांची चर्चा करा.

(१५)

प्र.७ संस्कृतीची व्याख्या द्या. जागतीकीकरणाच्या भारतीय संस्कृतीवरील परिणामांची चर्चा करा.

(१५)